



PRUEBAS DE ACCESO A CICLOS FORMATIVOS DE GRADO SUPERIOR
Convocatoria de 19 de junio (ORDEN EDU/280/2014, de 16 de abril, B.O.C. y L. 29 de abril)

PARTE ESPECÍFICA. OPCIÓN: OP1

DATOS DEL ASPIRANTE	CALIFICACIÓN
APELLIDOS: NOMBRE: DNI: CENTRO EDUCATIVO:	

EJERCICIO DE ECONOMÍA Y ORGANIZACIÓN DE EMPRESAS

PRIMERA PARTE: CUESTIONES

1. La forma jurídica más común que puede adoptar una empresa es la de Sociedad Anónima o Sociedad Limitada. ¿Podría explicar cuáles son las principales diferencias entre ambas?
2. Cite al menos seis variables externas que cualquier empresa debe tener en cuenta para valorar su posible localización.
3. Defina los siguientes conceptos: productividad media, globalización, eficiencia económica, merchandising y responsabilidad social.
4. Explique en qué consiste un estudio de mercado y cuáles son sus principales fases.
5. El Plan General de Contabilidad es una normativa que regula e indica cómo deben llevar a cabo las empresas su contabilidad. Según dicha norma ¿cuáles son las cuentas anuales? ¿cómo se definen?

SEGUNDA PARTE: CASOS PRÁCTICOS

1. La empresa Pizzas S.A. quiere abrir uno de sus centros en Zamora para lo que hace algunos cálculos sobre los costes que puede tener, así como el nivel de ventas con que se puede encontrar. En los estudios realizados por sus economistas llega a la conclusión de que para abrir la tienda precisa de las siguientes inversiones y los siguientes gastos:

- Vehículos: 40.000€
- Local alquilado: 2.200€ mensuales
- Maquinaria: 20.000€
- Mano de obra fija: 12.000€ mensuales.
- Luz y agua no relacionada directamente con producción: 200€
- Materia prima: 3€/unidad
- Envases de cartón: 1€/unidad
- Luz y agua relacionada con la fabricación de pizzas: 2€/pizza
- Se estima que el inmovilizado de la empresa sufrirá una depreciación mensual del 1%.

Se pide:

- a) Calcular los costes fijos mensuales de esta empresa.
- b) Calcular sus costes variables unitarios.
- c) Si la empresa quiere vender sus pizzas a 10 €/unidad, calcule el punto muerto.
- d) Si desea alcanzar el punto muerto con 2.000 unidades mensuales, ¿qué precio tendrá que fijar por pizza?.



DATOS DEL ASPIRANTE

APELLIDOS:

NOMBRE:

DNI:

CENTRO EDUCATIVO:

EJERCICIO DE ECONOMÍA Y ORGANIZACIÓN DE EMPRESAS (Continuación)

2. El Sr. Romar, director de la empresa Alarmas Romar, lee en la prensa especializada que la venta anual de sistemas de alarma en su localidad ha sido: Direct S.L., 200; Palomar S.A., 600; y que su empresa ha vendido 300. Averiguar su cuota de mercado.
3. La Junta General de la empresa Replix S.A. decide repartir 40.000€ en forma de dividendos entre sus accionistas. Si el capital social de esta empresa es de 4.000.000€, distribuido en acciones con un valor nominal de 50€, determine:
 - a) El número de acciones de esta empresa.
 - b) Los dividendos que le corresponden a la Sra. Gómez (propietaria de 10.000 acciones).
4. La empresa Carso S.A., dedicada a la fabricación de móviles, tiene una plantilla de 16 trabajadores con una jornada laboral cada uno de 1.350 horas anuales. En el año 2012 dicha empresa logró un volumen de 79.980 móviles.

Se pide:

 - a) Calcular la productividad media de la mano de obra de esta empresa.
 - b) Si la productividad media de la mano de obra de este sector en el año 2012 fue de 4,2 móviles/hora. Analice la situación de esta empresa.

CRITERIOS DE EVALUACIÓN Y CALIFICACIÓN

- *Cuestiones:* se valorará la claridad en la exposición de ideas y la capacidad de análisis.
Casos prácticos: se valorarán de forma diferenciada, el planteamiento, el resultado y la explicación de éste.
- La valoración total es de **10 puntos**.
 - PRIMERA PARTE: **5 puntos**. Cada una de las cuestiones 1 punto
 - SEGUNDA PARTE: **5 puntos**. Cada práctico 1: 2 punto
Casos prácticos 2, 3 y 4: 1 punto cada uno.



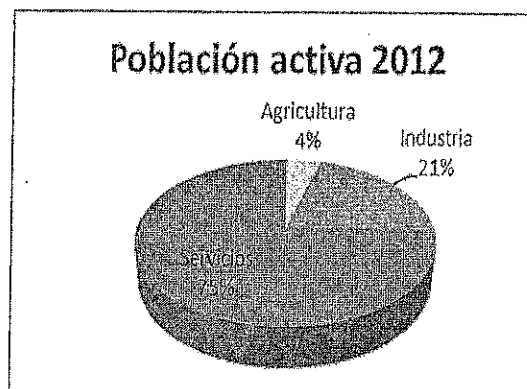
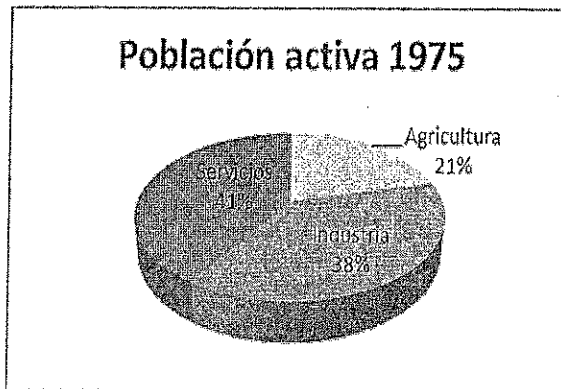
PRUEBAS DE ACCESO A CICLOS FORMATIVOS DE GRADO SUPERIOR
Convocatoria de 19 de junio (ORDEN EDU/280/2014, de 16 de abril, B.O.C. y L. 29 de abril)

PARTE ESPECÍFICA. OPCIÓN: OP1

DATOS DEL ASPIRANTE	CALIFICACIÓN
APELLIDOS: NOMBRE: DNI: CENTRO EDUCATIVO:	

EJERCICIO DE GEOGRAFÍA

1. A partir de la observación y análisis de los gráficos, realice un breve comentario sobre los cambios que han tenido lugar entre las dos fechas en la estructura de la población activa española.



2. **Definir** de manera clara y precisa los siguientes conceptos:

- Crecimiento natural vegetativo.
- Acantilado.
- Turismo cultural
- Acuífero
- Desertificación
- Balanza comercial
- Reconversión industrial
- Ganadería extensiva

3. En el mapa mudo, **localizar**, de forma inequívoca y con la mayor precisión posible (mediante punto, línea o contorno) los siguientes elementos geográficos y ciudades:

- Gomera (isla)
- Santander
- Tablas de Daimiel
- La Alcarría (Comarca)
- Sistema Ibérico
- Comunidad Autónoma de Murcia
- Río Segura
- Golfo de Rosas
- Zamora
- Río Duero



DATOS DEL ASPIRANTE

APELLIDOS:
NOMBRE:
DNI:
CENTRO EDUCATIVO:

EJERCICIO DE GEOGRAFÍA (Continuación)

4. Desarrolle **uno** de los dos temas siguientes, para lo cual se puede servir de los distintos apartados que se enumeran:
- a) **Los transportes y las comunicaciones.** Características; el transporte por carretera; el transporte ferroviario; el transporte fluvial; el transporte aéreo; las comunicaciones.
 - b) **España en Europa.** El camino hacia la integración europea (desde la CEE a la UE); políticas comunes y estructura institucional de la Unión Europea; la política regional y de cohesión territorial de la unión Europea: instrumentos y resultados; la posición de España en la Unión Europea.

CRITERIOS DE EVALUACIÓN Y CALIFICACIÓN

- La valoración total es de **10 puntos**:
 - La 1ª pregunta se puede valorar, como máximo, con **3 puntos**. Se deberá realizar una tarea de análisis del gráfico. Se valorará la claridad de ideas y su jerarquización, además del vocabulario utilizado.
 - La 2ª pregunta se puede valorar, como máximo, con **2 puntos**. Se tendrá en cuenta la exactitud y la capacidad de síntesis para conseguir, en pocas líneas, una definición lo más completa posible de cada uno de los términos propuestos.
 - La 3ª pregunta se puede valorar, como máximo, con **1,5 puntos**. Se tendrá en cuenta la precisión y claridad de las localizaciones en el mapa de las unidades geográficas propuestas.
 - La 4ª pregunta se valorará sobre **3,5 puntos**. En el tema se valorará un desarrollo lógico y jerárquico, con empleo del vocabulario adecuado, que no omita partes importantes del mismo.
 - Además, en todas las preguntas, se tendrán en cuenta aspectos formales como la corrección ortográfica y sintáctica y la presentación.



**Junta de
Castilla y León**

Consejería de Educación
Dirección General de Formación Profesional y Régimen Especial

PRUEBAS DE ACCESO A CICLOS FORMATIVOS DE GRADO SUPERIOR
Convocatoria de 19 de junio (ORDEN EDU/280/2014, de 16 de abril, B.O.C. y L. 29 de abril)

PARTE ESPECÍFICA. OPCIÓN: OP1

DATOS DEL ASPIRANTE	CALIFICACIÓN
APELLIDOS: NOMBRE: DNI: CENTRO EDUCATIVO:	

EJERCICIO DE HISTORIA DEL ARTE

PRIMERA CUESTIÓN


Desarrolle dos de estos temas:

- a) La arquitectura griega.
- b) La escultura del Renacimiento italiano.
- c) La pintura impresionista y postimpresionista.

SEGUNDA CUESTIÓN

Analice y comente estas dos obras:

1.



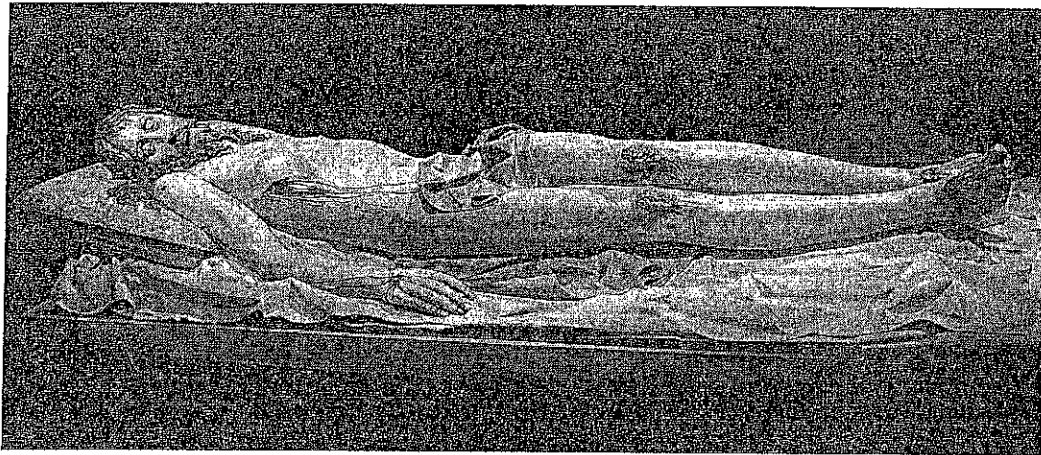


DATOS DEL ASPIRANTE

APELLIDOS:
NOMBRE:
DNI:
CENTRO EDUCATIVO:

EJERCICIO DE HISTORIA DEL ARTE (Continuación)

2.



CRITERIOS DE EVALUACIÓN Y CALIFICACIÓN

PRIMERA CUESTIÓN

Se trata de comprobar la madurez del alumnado en relación con los objetivos del bachillerato, así como su capacidad de caracterizar los principales estilos artísticos de la tradición cultural europea describiendo sus rasgos básicos, situarlos en las coordenadas espacio-temporales y relacionarlos con el contexto en que se desarrollan.

Se valorará el orden y la claridad en la exposición de las ideas, la relación entre ellas, la capacidad sintética y de expresión, dentro de la que se considera básica la corrección gramatical, ortográfica y léxica, la utilización correcta de los términos y el uso de conceptos relacionados con los contenidos, la introducción de referencias espaciales y temporales, la ejemplificación y el enfoque, la extensión y profundidad de desarrollo, y la ausencia de errores graves y de omisiones importantes de contenido.

SEGUNDA CUESTIÓN

El comentario de las obras debe incluir la clasificación de la obra, el análisis estilístico, iconográfico y técnico, así como las referencias sociológicas y el estudio estético. De esta forma, en primer lugar se valorará la catalogación, dentro de la que se incluyen la identificación de la obra, el tema, el autor, el estilo artístico, la tipología, la cronología y las funciones específicas de la obra; y en segundo lugar se valorará el análisis de elementos intrínsecos y elementos extrínsecos, es decir, los elementos técnicos y artísticos por un lado, y el encuadre sociológico y el contexto histórico por otro. También la corrección formal del lenguaje, a la que hemos aludido en los criterios de calificación de la cuestión teórica, será valorada.

- La valoración total será de 10 puntos.
- La primera cuestión se valorará sobre **5 puntos** (2,5 puntos cada uno de los temas).
- La segunda cuestión se valorará sobre **5 puntos** (2,5 puntos cada uno de los comentarios).